

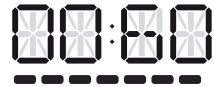


# El Fuerte de San Cristobal

HOJA DE RUTA




**¡VAMOS A HACER UN RECORRIDO DE RECONOCIMIENTO DEL FUERTE!**  
TENEMOS EXACTAMENTE **1 HORA, Y 10 PUNTOS** A VISITAR.

 **¡CONTROLAD MUY BIEN EL TIEMPO!**  

**1** Panel 38  
**EL FUERTE DE SAN CRISTÓBAL**


\* Anota las respuestas a las siguientes preguntas:

**a** ¿Quiénes son estos militares que entran en el fuerte?

 .....


.....

**b** ¿Fueron ellos quienes lo construyeron?

 .....

.....

**b** ¿Cuándo y para qué se contituyó el fuerte de San Cristóbal?

 .....

.....

.....

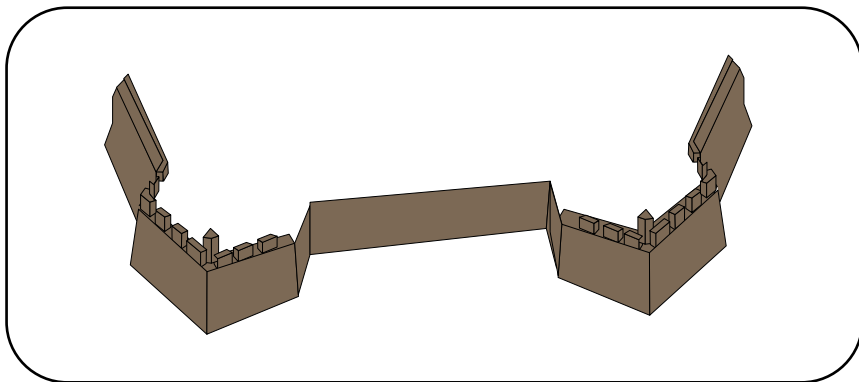
# El Fuerte de San Cristobal

## HOJA DE RUTA

### 2 Panel 39. ELEMENTOS DE LA FORTIFICACIÓN ABALUARTADA

\* Anota sobre el plano los números correspondientes a los principales elementos de una fortificación abaluartada.

- |                |                   |                     |
|----------------|-------------------|---------------------|
| 1 Baluarte     | 4 Camino Cubierto | 7 Explanada         |
| 2 Semibaluarte | 5 Revellín        | 8 Cuerpo de guardia |
| 3 Foso         | 6 Contraescarpa   | 9 Cortina           |




### 3 Panel 40. GLACIS Y CAMINO CUBIERTO

\* ¿Por qué están haciendo el foso más profundo y la explanada más alta? elige la respuesta correcta.

- |   |                                 |
|---|---------------------------------|
| 1 Para evitar que las balas de los cañones enemigos impacten en la muralla. | 3 Para ninguna de las dos cosas |
| 2 Para dificultar el asalto mediante escalada del fuerte                    |                                 |
| 3 Para las dos anteriores   |                                 |

### 4 Panel 41. FOSO Y REVELLÍN

\* Usa tu teléfono móvil. Ve al apartado saber más. Dibuja la sección del fuerte de San Cristóbal y explica las diferentes alturas entre muralla, revellín y camino cubierto.



.....

.....

.....

.....

# El Fuerte de San Cristobal

## HOJA DE RUTA

### 5 Panel 42. LUNETTA DE WERLÉ

\* ¿Por qué los franceses construyeron en 1811 la luneta de Welé?

- 1 Para evitar que el ejército enemigo aliado instalara en ese punto cañones
- 2 Para darle nombre a la zona
- 3 Para hacer un monumento a su general muerto en la batalla de La Albuera.

### 6 Panel 43. GUERRAS DE PORTUGAL

\* En el croquis hemos numerado varios elementos del fuerte de aquella época que ya no se conservan. Identifícalos



- 1 Estacada
- 2 Ermita de San Cristóbal
- 3 Trincheras del ejército portugués
- 4 Fuerte de tierra del ejército portugués
- 3 Antiguo polvorín

### 7 Panel 44. ASEDIO Y BATALLA DE SANTA ENGRACIA

\* Busca con tu teléfono la foto del arco de Triunfo de París. Allí verás el nombre del Gévora, con el que los franceses llamaron a esta batalla.

¿Cuáles fueron los contendientes?

- 1 Españoles y franceses
- 2 Franceses e ingleses
- 3 Españoles y portugueses

¿Quién resultó derrotado?

- 1 El general británico Wellington
- 2 El general español Mendizábal
- 3 El mariscal francés Soult.

### 8 Panel 45. SEGUNDO ASEDIO BRITÁNICO. BRECHAS DE 1811

\* Si se hacían 3000 disparos de cañón al día. ¿Cuántos cañonazos snaban más o menos cada minuto?

*Ten en cuenta que solo se disparaba de día y que hay unas 15 horas de luz solar al día en esa época del año.*



.....

.....

\* ¿Qué elementos dispusieron los franceses en el foso para entorpecer a los asaltantes?, ¿y en lo alto de la brecha?



.....

.....

.....

# El Fuerte de San Cristobal

## HOJA DE RUTA

### 9 Panel 46. GOLA E INSCRIPCIÓN DE 1811

\* ¿Se llegó a disparar sobre el fuerte de San Cristóbal desde la alcazaba?

- 1 Sí, cuando lo tomaron los británicos en 1811
- 2 Sí, cuando se refugiaron aquí los oficiales franceses en abril de 2012, tras la toma de Badajoz.
- 3 Nunca, el fuerte nunca fue tomado.

\* ¿Por qué crees que no hay cañoneras en este lado del fuerte apuntando hacia la ciudad?



.....

.....

.....

\* Busca la inscripción 1811 en la gola y explica por qué crees que aparece esa fecha en este muro del fuerte.



.....

.....


.....

### 10 Panel 47. CUERPO DE GUARDIA

\* Dibuja el cuerpo de guardia construido en el siglo XX en el plano



### 11 Panel 48. PLAZA DE ARMAS



\* ¿Cuándo dejó de tener importancia militar el fuerte de San Cristóbal?



.....

.....

.....

\* ¿Para qué se utiliza un aljibe?, ¿conoces otros en la ciudad?, ¿dónde?



.....

.....

.....

# **El Fuerte de San Cristobal**

---

## HOJA DE RUTA

### **12** Panel 49. CONSTRUCCIONES MODERNAS

- \* Descarga el QR en tu teléfono móvil y entra en el apartado "A vista de pájaro".
- \* Compara el estado de las construcciones modernas del Fuerte de San Cristóbal en la ilustración del panel con el que tenían antes de la rehabilitación del fuerte.

### **14** Panel 51. PAISAJE HISTÓRICO

- \* Enlaza la fecha con los acontecimientos y personajes correspondientes:

1811 Batalla de Sagrajas

1580 Asedio portugués en la Guerra de Separación

1086 Cantillana

1812 Batalla de Santa Engracia

1659 Asedios Británicos

*Nicolas Jean de Dieu Soult, Mariscal de Francia*

*Fernando Álvarez de Toledo y Pimentel, Duque de Alba*

*Yusuf B. Tasufin*

*Sir Arthur Wellesley, Lord Wellington*

*Joanne Mendes de Vasconcelos*

### **13** Panel 50. CAÑONERAS

Aunque aquí se representen dos, ¿cuántas personas eran necesarias para utilizar un cañón como este?.

- \* ¿Qué llevan las esculturas de los soldados de artillería?  
Indica verdadero o falso.

- 1 Una banqueta para limpiar el alma del cañón.....  V  F
- 2 Una cuchara para cargar la pólvora.....  V  F
- 3 Un atacador para empujar la bala de cañón.....  V  F
- 4 Un palo con mecha.....  V  F
- 3 Un estandarte de la compañía.....  V  F

**15** MIRADOR DE LA CIUDAD

\* ¿Qué ciudad de Portugal fue la principal oponente de Badajoz?

Évora

Elvas

Portalegre

Campomaior

\* ¿Conoces el nombre de algún fuerte de esa ciudad? Anótalo aquí.



.....  
.....  
.....